


Вариант 1.

1. Выразите в сантиметрах и миллиметрах: а) 25 мм; б) 106 мм

2. Запишите все отрезки:



3. Начертите луч OA, возьмите на луче точки M, N, K. Запишите все лучи.

4. Постройте прямую AB. Возьмите на прямой точки M и Q. Запишите все лучи.

Вариант 2.

1. Выразите в дециметрах и сантиметрах: а) 27 см; б) 309 см.

2. Запишите все отрезки:




3. Начертите луч AB, возьмите на луче точки O, T и H. Запишите все лучи.

4. Постройте прямую CD. Возьмите на прямой точки A, B и M. Запишите все лучи.

Вариант 3.

1. Выразите в метрах и дециметрах: а) 26 дм; б) 302 дм

2. Запишите все отрезки:




3. Начертите луч OB, возьмите на луче точки A, M и C. Запишите все лучи.

4. Постройте прямую AK. Возьмите на прямой точки M, D и B. Запишите все лучи.

Вариант 4.

1. Выразите в километрах и метрах: а) 2060 м; б) 36200 м

2. Запишите все отрезки:




3. Начертите луч  $OB$ , возьмите на луче точки  $C, D, K$ . Запишите все лучи.

4. Постройте прямую  $MK$ . Возьмите на прямой точки  $A, B$  и  $C$ . Запишите все лучи.

Вариант 5.

1. Выразите в километрах и метрах: а) 3203 м; б) 90005 м

2. Запишите все отрезки:





3. Начертите луч  $MN$ , возьмите на луче точки  $A, B$  и  $C$ . Запишите все лучи.

4. Постройте прямую  $AN$ . Возьмите на прямой точки  $M, H$  и  $K$ . Запишите все лучи.

Вариант 6.

1. Выразите в сантиметрах и миллиметрах: а) 36 мм; б) 204 мм.

2. Запишите все отрезки:




3. Начертите луч  $OB$ , возьмите на луче точки  $D, A$  и  $M$ . Запишите все лучи.

4. Постройте прямую  $CD$ . Возьмите на прямой точки  $A$  и  $B$ . Запишите все лучи.

Вариант 7.

1. Выразите в дециметрах и сантиметрах: а) 59 см; б) 603 см

2. Запишите все отрезки:




3. Начертите луч МК, возьмите на луче точки Т, А и В. Запишите все лучи.

4. Постройте прямую АО. Возьмите на прямой точки В, М и Н. Запишите все лучи.

Вариант 8.

1. Выразите в метрах и дециметрах: а) 35 дм; б) 706 дм

2. Запишите все отрезки:



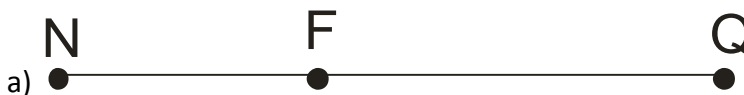
3. Начертите луч ОМ, возьмите на луче точки А, В и С. Запишите все лучи.

4. Постройте прямую CD. Возьмите на прямой точки А, В и К. Запишите все лучи.

Вариант 9.

1. Выразите в километрах и метрах: а) 3699 м; б) 70003 м

2. Запишите все отрезки:



3. Начертите луч ОК, возьмите на луче точки М, А и Т. Запишите все лучи.

4. Постройте прямую AD. Возьмите на прямой точки О, В и К. Запишите все лучи.

Вариант 10.

1. Выразите в сантиметрах и миллиметрах: а) 26 мм; б) 207 мм

2. Запишите все отрезки:



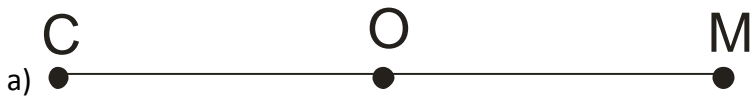
3. Начертите луч ОК, возьмите на луче точки С, М и Т. Запишите все лучи.

4. Постройте прямую ОQ. Возьмите на прямой точки С, М и К. Запишите все лучи.

Вариант 11.

1. Выразите в сантиметрах и миллиметрах: а) 27 мм; б) 902 мм

2. Запишите все отрезки:




3. Начертите луч ОQ, возьмите на луче точки N, М и Т. Запишите все лучи.

4. Постройте прямую АО. Возьмите на прямой точки С и D. Запишите все лучи.

Вариант 12.

1. Выразите в дециметрах и сантиметрах: а) 45 см; б) 802 см

2. Запишите все отрезки:



3. Начертите луч ТQ, возьмите на луче точки А, В и С. Запишите все лучи.

4. Постройте прямую MD. Возьмите на прямой точки А, В и С. Запишите все лучи.

Ответы.

Задание	1(а)	1(б)	2(а)	2(б)	3	4
Вариант						
1	2 см 5 мм	10 см 6 мм	AB, AM, BM	MC, MD, MK, CD, CK, DK	OA, MA, NA, KA	MA, MB, QA, QB
2	2 дм 7 см	30 дм 9 см	AK, AT, KT	QB, QC, QA, BC, BA, CA	AB, OB, TB, HB	AC, AD, BC, BD, MC, MD
3	2 м 6 дм	30 м 2 дм	MK, MT, KT	AM, AN, AB, MN, MB, NB	OB, AB, MB, CB	MA, MK, DA, DK, BA, BK
4	2 км 60 м	36 км 200 м	AO, AM, OM	CM, CH, CK, MH, MK, HK	OB, CB, DB, KB	AM, AK, BM, BK, CM, CK
5	3 км 203 м	90 км 5 м	AB, BM, AM	CK, CQ, CD, KQ, KD, QD	MN, AN, BN, CN	MA, MN, HA, HN, KA, KN
6	3 см 6 мм	20 см 4 мм	OQ, OR, QR	HA, HB, HD, AB, AD, BD	OB, DB, AB, MB	AC, AD, BC, BD
7	5 дм 9 см	60 дм 3 см	AO, AK, OK	TA, TB, TN, AB, AN, BN	MK, TK, AK, BK	BA, BO, MA, MO, HA, HO
8	3 м 5 дм	70 м 6 дм	QC, QP, CP	AK, AD, AO, KD, KO, DO	OM, AM, BM, CM	AC, AD, BC, BD, KC, KD
9	3 км 699 м	70 км 3 м	NF, NQ, FQ	AM, AN, AB, MN, MB, NB	OK, MK, AK, TK	OA, OD, BA, BD, KA, KD
10	2 см 6 мм	20 см 7 мм	MA, MQ, AQ	DP, DM, DC, PM, PC, MC	OK, CK, MK, TK	CO, CQ, MO, MQ, KO, KQ
11	2 см 7 мм	90 см 2 см	CO, OM, CM	AN, AQ, AB, NQ, NB, QB	OQ, NQ, MQ, TQ	CA, CO, DA, DO
12	4 дм 5 см	80 дм 2 см	AK, AB, KB	MB, MA, MH, BA, BH, AH	TQ, AQ, BQ, CQ	AM, AD, BM, BD, CM, CD