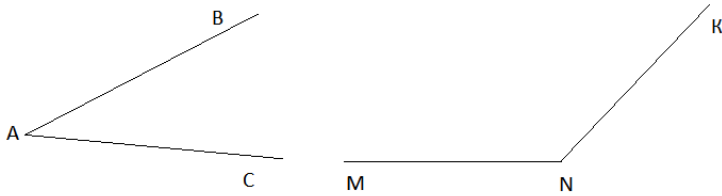


Вариант 1

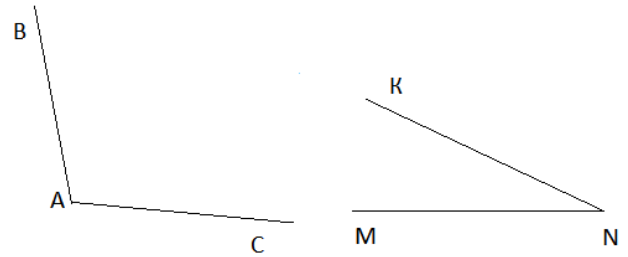
1. Измерьте угол:



2. Постройте углы AMP, THE, УКА, если $\angle AMP = 42^\circ$, $\angle THE = 124^\circ$, $\angle УКА = 93^\circ$

Вариант 2

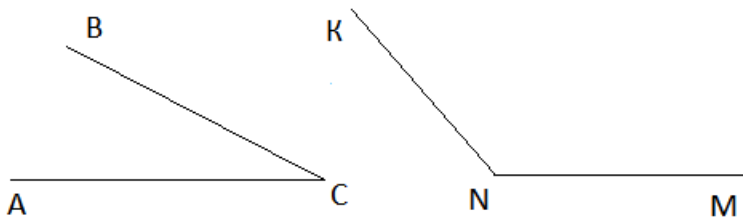
1. Измерьте угол:



2. Постройте углы AMP, THE, УКА, если $\angle AMP = 53^\circ$, $\angle THE = 156^\circ$, $\angle УКА = 105^\circ$

Вариант 3

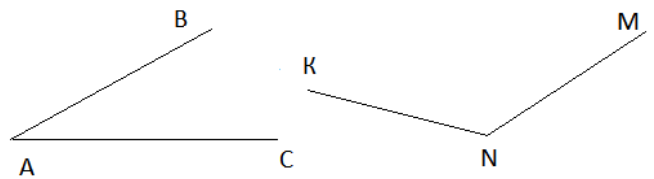
1. Измерьте угол:



2. Постройте углы AMP, THE, УКА, если $\angle AMP = 35^\circ$, $\angle THE = 139^\circ$, $\angle УКА = 92^\circ$

Вариант 4

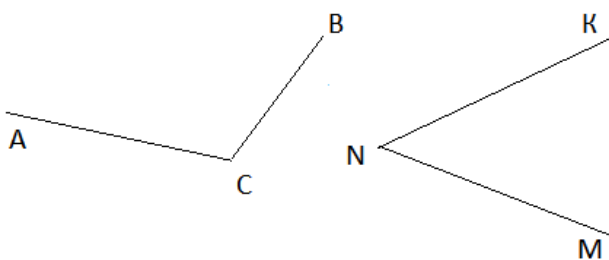
1. Измерьте угол:



2. Постройте углы AMP, THE, УКА, если $\angle AMP = 23^\circ$, $\angle THE = 145^\circ$, $\angle УКА = 102^\circ$

Вариант 5

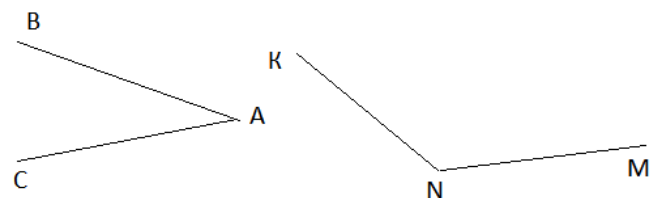
1. Измерьте угол:



2. Постройте углы AMP, THE, УКА, если $\angle AMP = 67^\circ$, $\angle THE = 135^\circ$, $\angle УКА = 110^\circ$

Вариант 6

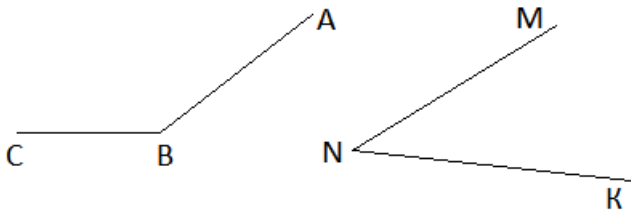
1. Измерьте угол:



2. Постройте углы AMP, THE, УКА, если $\angle AMP = 55^\circ$, $\angle THE = 156^\circ$, $\angle УКА = 105^\circ$

Вариант 7

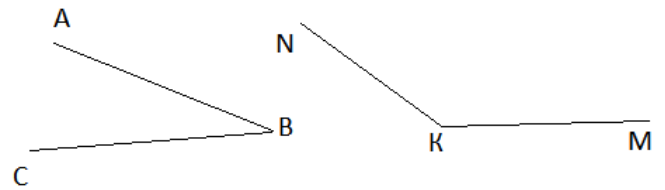
1. Измерьте угол:



2. Постройте углы AMP, THE, УКА, если $\angle AMP = 75^\circ$, $\angle THE = 165^\circ$, $\angle УКА = 84^\circ$

Вариант 8

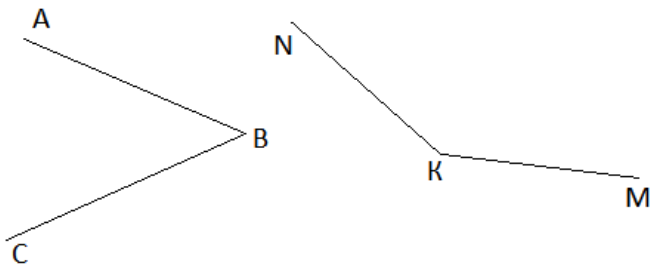
1. Измерьте угол:



2. Постройте углы AMP, THE, УКА, если $\angle AMP = 25^\circ$, $\angle THE = 146^\circ$, $\angle УКА = 122^\circ$

Вариант 9

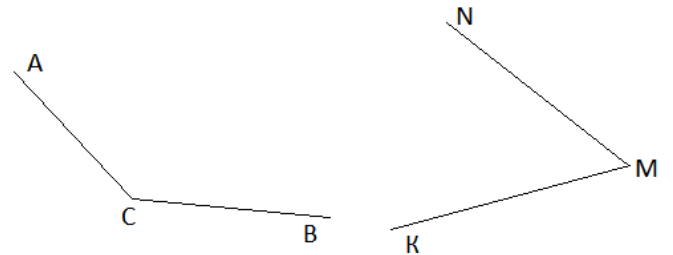
1. Измерьте угол:



2. Постройте углы AMP, THE, УКА, если $\angle AMP = 15^\circ$, $\angle THE = 170^\circ$, $\angle УКА = 103^\circ$

Вариант 10

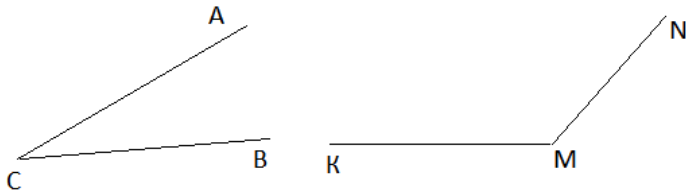
1. Измерьте угол:



2. Постройте углы AMP, THE, УКА, если $\angle AMP = 78^\circ$, $\angle THE = 34^\circ$, $\angle УКА = 167^\circ$

Вариант 11

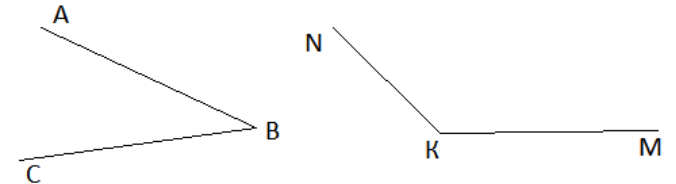
1. Измерьте угол:



2. Постройте углы AMP, THE, УКА, если $\angle AMP = 42^\circ$, $\angle THE = 108^\circ$, $\angle УКА = 157^\circ$

Вариант 12

1. Измерьте угол:



2. Постройте углы AMP, THE, УКА, если $\angle AMP = 18^\circ$, $\angle THE = 143^\circ$, $\angle УКА = 101^\circ$

Ответы.

Задание	1
Вариант	
1	$\angle ABC = 33^\circ; \angle KNM = 133^\circ$
2	$\angle ABC = 105^\circ; \angle KNM = 25^\circ$
3	$\angle ABC = 28^\circ; \angle KNM = 130^\circ$
4	$\angle ABC = 30^\circ; \angle KNM = 132^\circ$
5	$\angle ABC = 115^\circ; \angle KNM = 47^\circ$
6	$\angle ABC = 30^\circ; \angle KNM = 132^\circ$
7	$\angle ABC = 142^\circ; \angle KNM = 38^\circ$
8	$\angle ABC = 25^\circ; \angle KNM = 142^\circ$
9	$\angle ABC = 48^\circ; \angle KNM = 145^\circ$
10	$\angle ABC = 137^\circ; \angle KNM = 53^\circ$
11	$\angle ABC = 27^\circ; \angle KNM = 131^\circ$
12	$\angle ABC = 32^\circ; \angle KNM = 135^\circ$